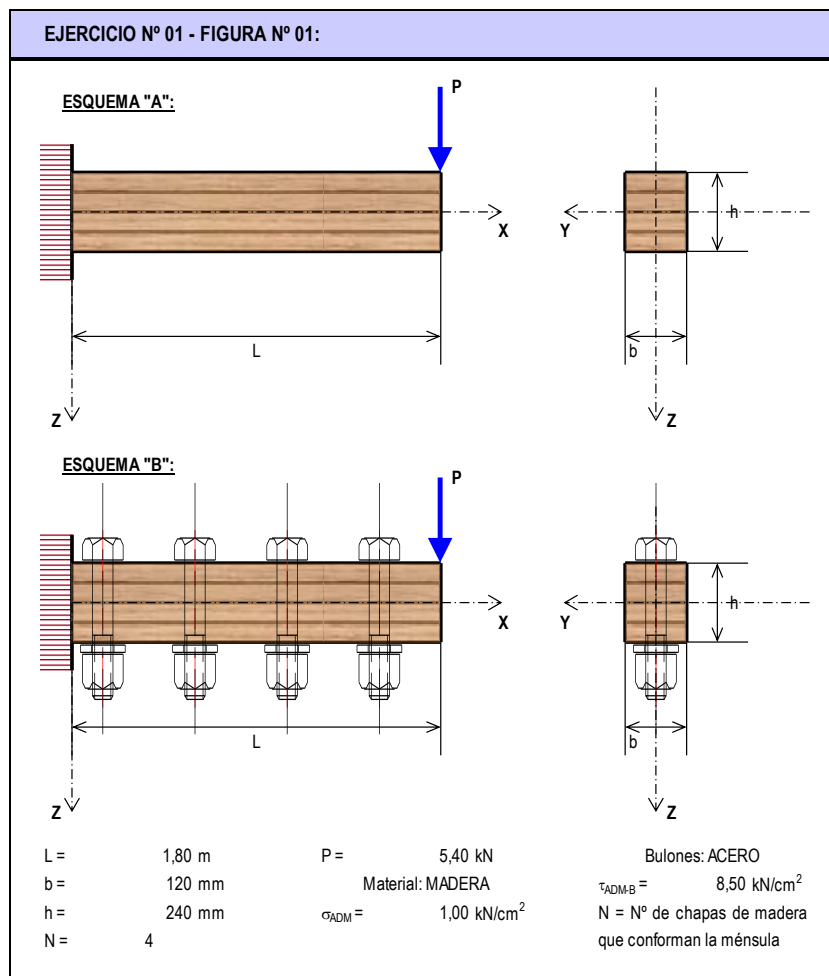




TRABAJO PRACTICO N° 07:
"SOLICITACIÓN POR FLEXIÓN VARIABLE EN RÉGIMEN ELÁSTICO - FV"

EJERCICIO N° 01: La estructura de la Figura N° 01, consta de dos esquemas estructurales. Ambas conformadas por "N" placas de madera dispuestas una encima de la otra pero no vinculadas. La diferencia entre las "A" y la "B", radica en que en la segunda, no existe deslizamiento o resbalamiento longitudinal entre las placas, sino que se comprueba un trabajo conjunto de todas las placas. Para materializar este trabajo conjunto o para evitar al resbalamiento, las placas de madera del esquema "B" se encuentran vinculadas por bulones de acero separados longitudinalmente una distancia "s". Se pide:

- 01.01 – Calcular las reacciones de vínculo y trazar los diagramas de características para cada esquema;
- 01.02 – Para cada esquema, trazar y determinar las tensiones normales de flexión para la sección más solicitada, verificando los valores;
- 01.03 – Para el esquema "B", determinar los diámetros y separaciones longitudinales de los bulones de manera de garantizar que las "N" chapas funcionen en conjunto, es decir, sin deslizamiento entre las placas.

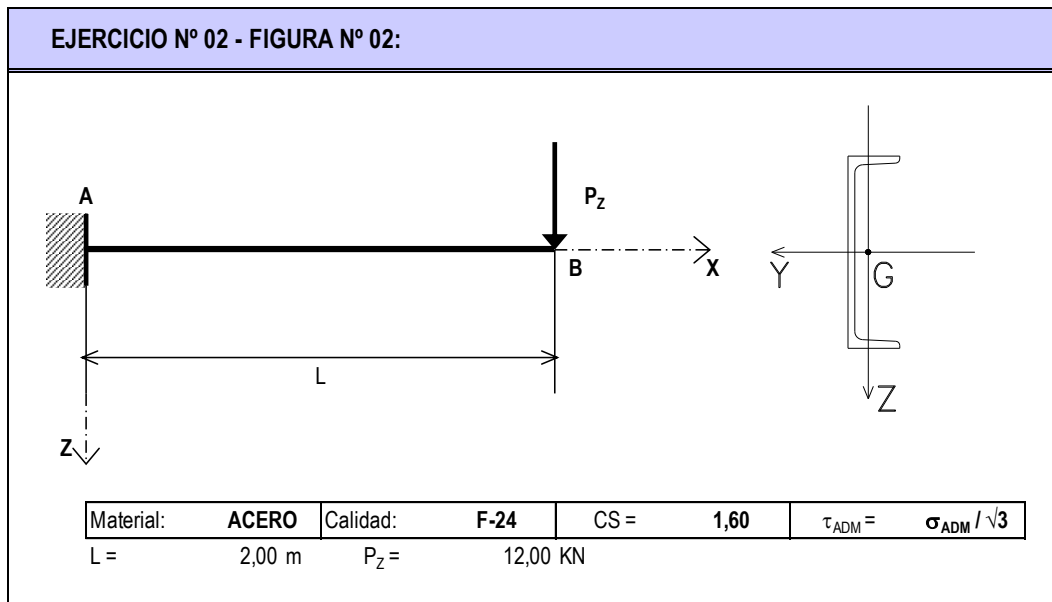


05.07.01-FV	TP N° 07: Solicitación por Flexión Variable en Régimen Elástico – FV	0	2017	2°	Todos	Pág.: 1
TP N°	CARPETA – SUB-CARPETA - DENOMINACION	REV.	AÑO	CUATRIM.	CURSOS	de: 12



EJERCICIO N° 02: Para el elemento estructural indicado en la Figura N° 02, constituido por un perfil de acero de sección "UPN", dispuesto como se indica, y solicitada por flexión normal y corte, se pide:

- 02.01 – Calcular las reacciones vínculo externo y trazar los diagramas de características;
- 02.02 - Dimensionar el perfil a flexión, seleccionando el mínimo necesario;
- 02.03 - Para la sección más solicitada a los esfuerzos de corte, trazar todos los diagramas de tensiones tangenciales, analizando las leyes de variación en cada caso y para cada elemento de la sección, detallando los valores característicos;
- 02.04 - Comparar los máximos valores de las tensiones tangenciales entre ambas direcciones;
- 02.05 - Encontrar el correspondiente centro de corte para el caso analizado que permite cargar la pieza adecuadamente sin que la misma deba soportar solicitaciones de torsión.



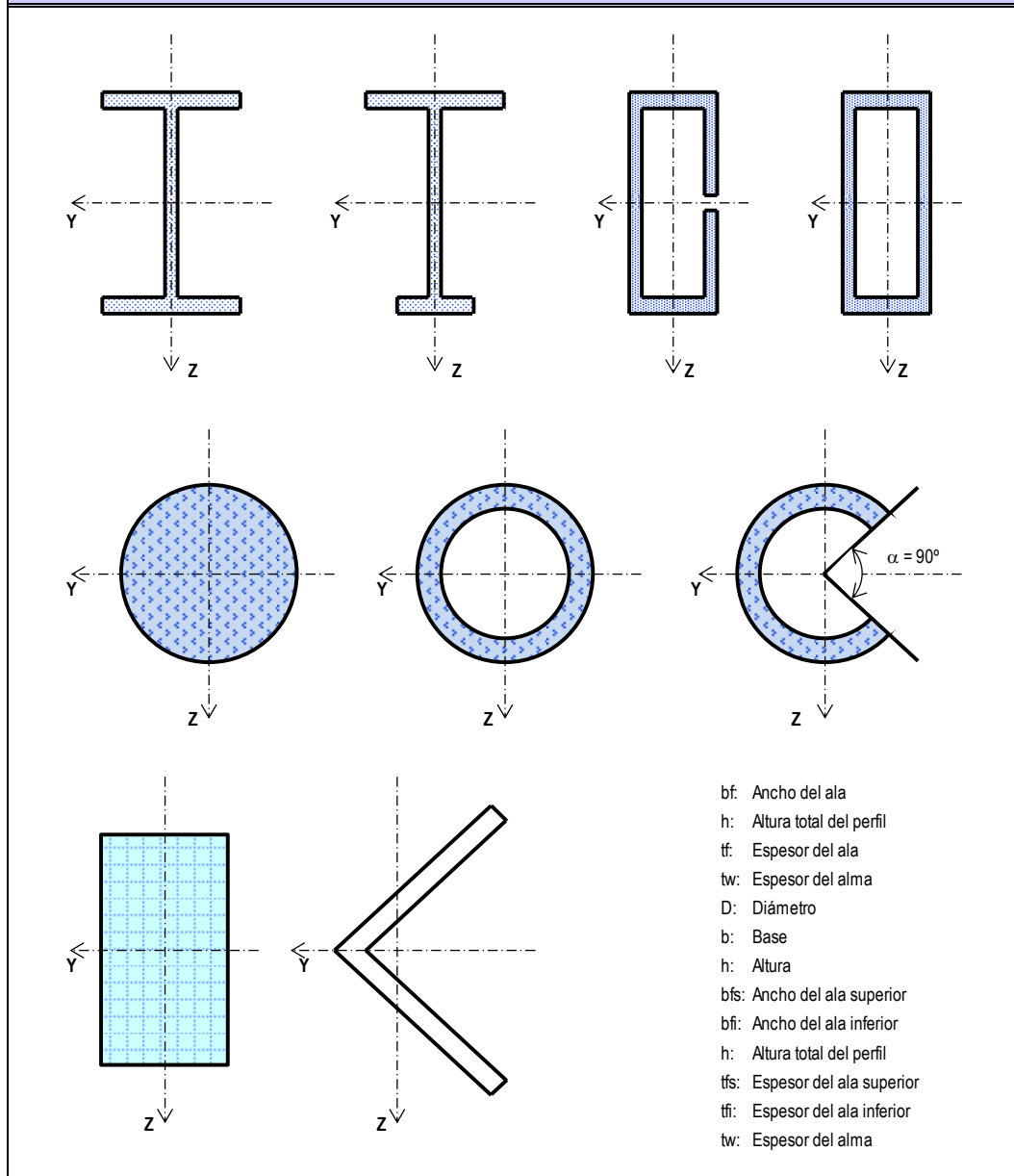
EJERCICIO N° 03: Para cada una de las secciones transversales de las Figuras N° 03, se pide trazar todos los diagramas de tensiones tangenciales, indicando de manera teórica los valores característicos sobre cada diagrama, para los siguientes casos:

- 03.01 – Q_Z > 0;
- 03.02 – Q_Y > 0;
- 03.03 – Incluir todos los desarrollos matemáticos para cada sección y caso de esfuerzo de corte.

05.07.01-FV	TP N° 07: Solicitación por Flexión Variable en Régimen Elástico – FV	0	2017	2°	Todos	Pág.: 2
TP N°	CARPETA – SUB-CARPETA - DENOMINACION	REV.	AÑO	CUATRIM.	CURSOS	de: 12



EJERCICIO N° 03 - FIGURA N° 03:



EJERCICIO N° 04: Para la estructura de la Figura N° 04, se pide:

04.01 - Calcular las reacciones de vínculo y trazar los diagramas de características;

04.02 – Trazar todos los diagramas de tensiones, tanto normales como tangenciales, de las siguientes secciones:

a - Para la ménsula, la sección correspondiente a la unión con la columna;

b - Para la columna, la sección de la base o empotramiento.

05.07.01-FV	TP N° 07: Solicitación por Flexión Variable en Régimen Elástico – FV	0	2017	2°	Todos	Pág.: 3
TP N°	CARPETA – SUB-CARPETA - DENOMINACION	REV.	AÑO	CUATRIM.	CURSOS	de: 12



04.03 – Para cada sección y para cada tipo de tensión (normal y tangencial), se requiere verificar las tensiones normales y las tangenciales frente a las correspondientes tensiones admisibles de cada tipo, encontrando y distinguiendo los puntos más solicitados en cada perfil.

EJERCICIO N° 04 - FIGURA N° 04:

AB =	5,00 m	Material:	ACERO
BC =	1,50 m	Calidad:	F-30
Hy =	2,00 kN	CS =	1,6
Nx =	100,00 kN	$\tau_{ADM} =$	$\sigma_{ADM} / (3)^{(1/2)}$
qz =	50,00 kN/m	AB :	HEB 300
Mx =	5,00 kN.m	BC :	UPN 240

EJERCICIO N° 05: Para el esquema estructural de la Figura N° 05, constituida por una viga simplemente apoyada, para la cual se plantean, además, las siguientes tres posibilidades de tomar torsiones en sus extremos:

- CASO I:** Sin ninguna posibilidad de tomar torsiones en los extremos;
- CASO II:** Con posibilidad de tomar torsiones en ambos extremos;
- CASO III:** Solamente puede tomar torsiones el extremo "A".

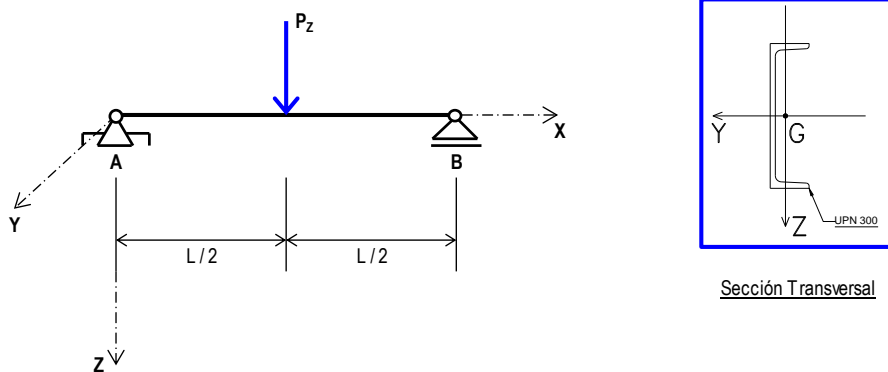
Se pide para cada uno de los casos mencionados:

- 05.01 – Cálculo de reacciones de vínculos externos y trazado de diagramas de características;
- 05.02 – Trazado de los diagramas de tensiones normales y de tensiones tangenciales;
- 05.03 – Verificación de los dos tipos de tensiones frente a sus correspondientes admisibles.

05.07.01-FV	TP N° 07: Solicitación por Flexión Variable en Régimen Elástico – FV	0	2017	2°	Todos	Pág.: 4
TP N°	CARPETA – SUB-CARPETA - DENOMINACION	REV.	AÑO	CUATRIM.	CURSOS	de: 12



EJERCICIO N° 05 - FIGURA N° 05:



DATOS

L =	4,00 m	Material:	ACERO	CS =	1,6
P _z =	10,00 kN	Calidad:	F-36	τ _{ADM} =	σ _{ADM} / (3) ^(1/2)

EJERCICIO N° 06: Una unión abulonada como la indicada en la Figura N° 06, se ve sometida a corte en su plano. La unión consiste de dos chapas a lados opuestos de una columna. Las chapas son de un espesor $t_{ch} = 2''$ y cada una soporta dos cargas de $P = 1000\text{kN}$. Se pide:

06.01 – Determinar la cantidad de bulones requeridos para transmitir las cargas a las columnas verificando que la tensión admisible de los bulones de $\tau_{ADM} = 100\text{MPa}$ no sea superada;

06.02 – Verificar el aplastamiento de la chapa.

NOTA: Trabajar con diámetros de bulones comerciales: $\frac{1}{2}''$, $\frac{5}{8}''$, $\frac{3}{4}''$, $\frac{7}{8}''$, $1''$, $1\frac{1}{4}''$, $1\frac{1}{2}''$, $1\frac{3}{4}''$, $2''$; eligiendo uno de ellos para luego determinar la cantidad. Ésta deberá ser un N° par.

EJERCICIO N° 07: Para el esquema estructural de la Figura N° 07, las características geométricas de la sección transversal y las características mecánicas del material, se pide:

07.01 – Calcular las reacciones de vínculo y trazar los diagramas de características;

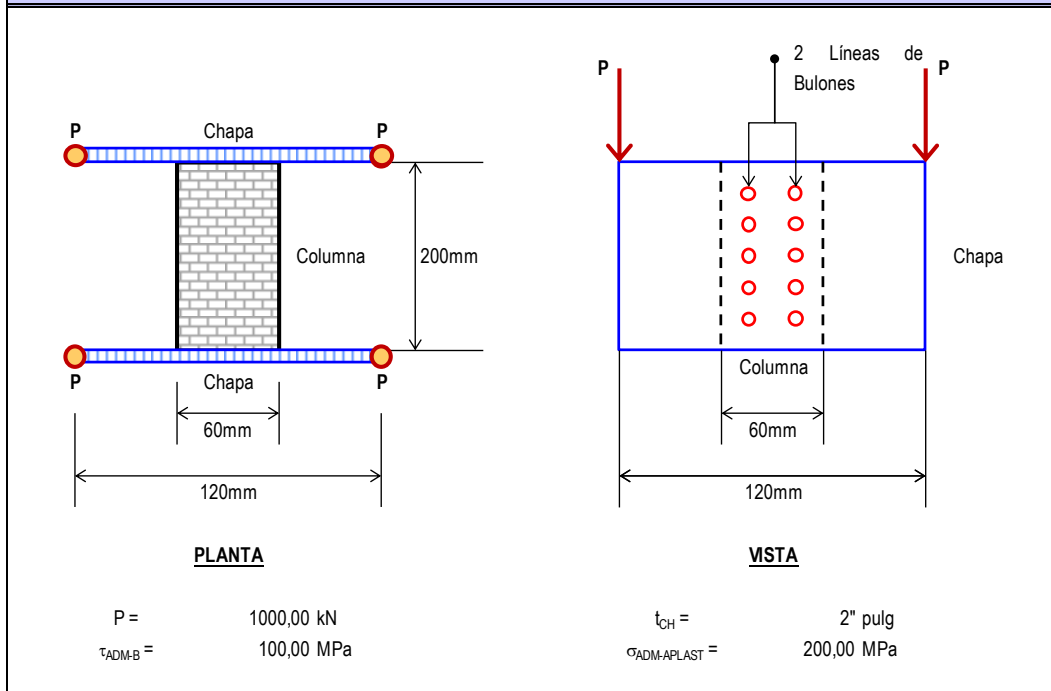
07.02 – Calcular el valor de P_{ADM} , de manera que verifique las tensiones normales y la unión mediante bulones entre el HEB (o IPB) y el UPN.

05.07.01-FV	TP N° 07: Solicitación por Flexión Variable en Régimen Elástico – FV	0	2017	2°	Todos	Pág.: 5
TP N°	CARPETA – SUB-CARPETA - DENOMINACION	REV.	AÑO	CUATRIM.	CURSOS	de: 12

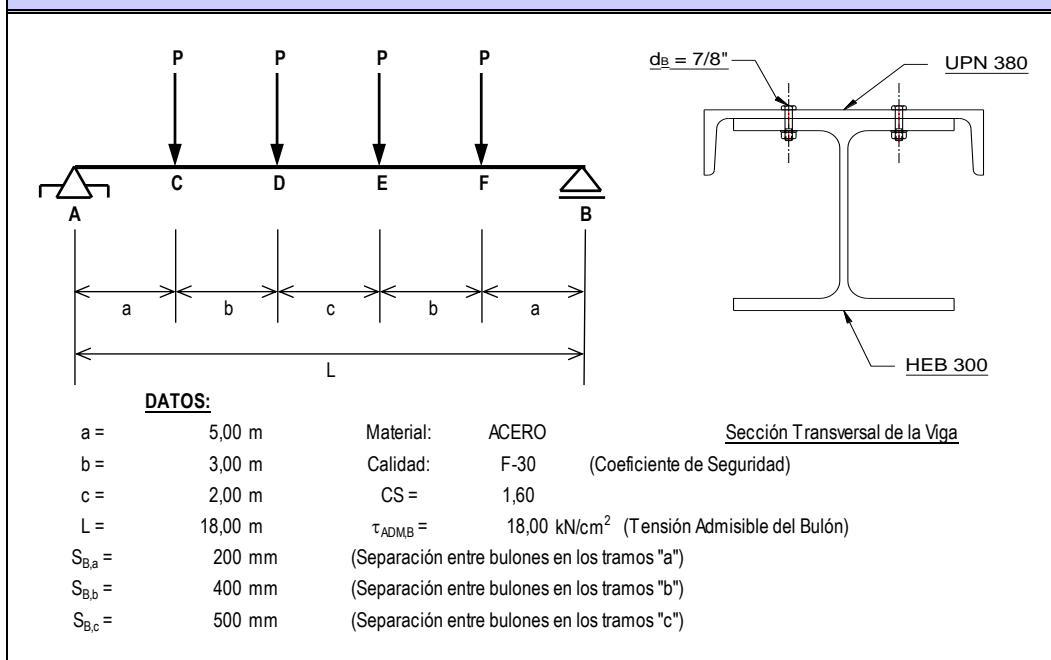


ESTABILIDAD II "A" – 64.02 (EIIA-64.02) y ESTABILIDAD II – 84.03 (EII-84.03)

EJERCICIO N° 06 - FIGURA N° 06:



EJERCICIO N° 07 - FIGURA N° 07:



05.07.01-FV	TP N° 07: Solicitación por Flexión Variable en Régimen Elástico – FV	0	2017	2°	Todos	Pág.: 6
TP N°	CARPETA – SUB-CARPETA - DENOMINACION	REV.	AÑO	CUATRIM.	CURSOS	de: 12



ESTABILIDAD II "A" – 64.02 (EIIA-64.02) y ESTABILIDAD II – 84.03 (EII-84.03)

EJERCICIO N° 08: Para el esquema estructural de la Figura N° 08, y las características geométricas de la sección transversal la cual se está conformada por un perfil de acero armado doble "T" de alas desiguales, así como las características mecánicas del material, se pide:

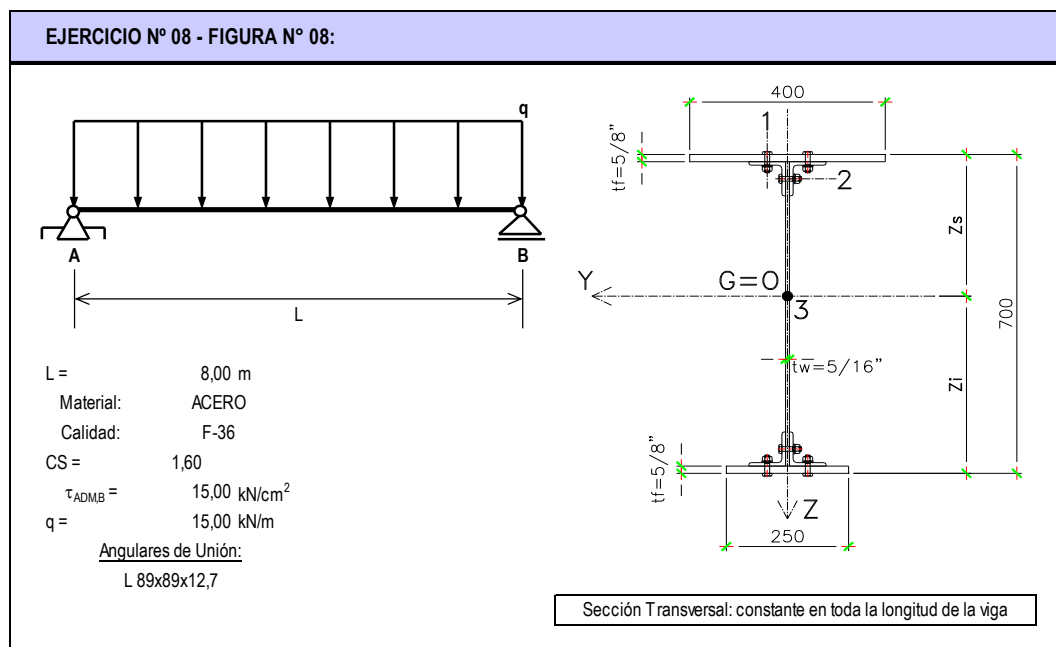
08.01 – Calcular las reacciones de vínculo y trazar los diagramas de características;

08.02 – Dimensionar las uniones definiendo los diámetros de los bulones así como las separaciones longitudinales entre ellos.

NOTA 01: Utilizar para los bulones diámetros comerciales partiendo de: 1/2", 5/8", 3/4", 7/8", 1", 1 1/4", 1 1/2", 1 3/4" y 2".

NOTA 02: Definir una única separación longitudinal entre bulones para todo el largo de la viga.

NOTA 03: Para la determinación de las propiedades geométricas de la sección, deberá considerarse que los angulares son continuos en toda la longitud de la viga.



EJERCICIO N° 09: Para el esquema estructural de la Figura N° 09, así como para las características geométricas de la sección transversal la cual se está conformada por un perfil laminado de acero "HEB 340" ó "IPB 340", al cual se le adicionaron dos platabandas soldadas a las alas superior e inferior respectivamente. Se pide:

09.01 – Calcular las reacciones de vínculo y trazar los diagramas de características;

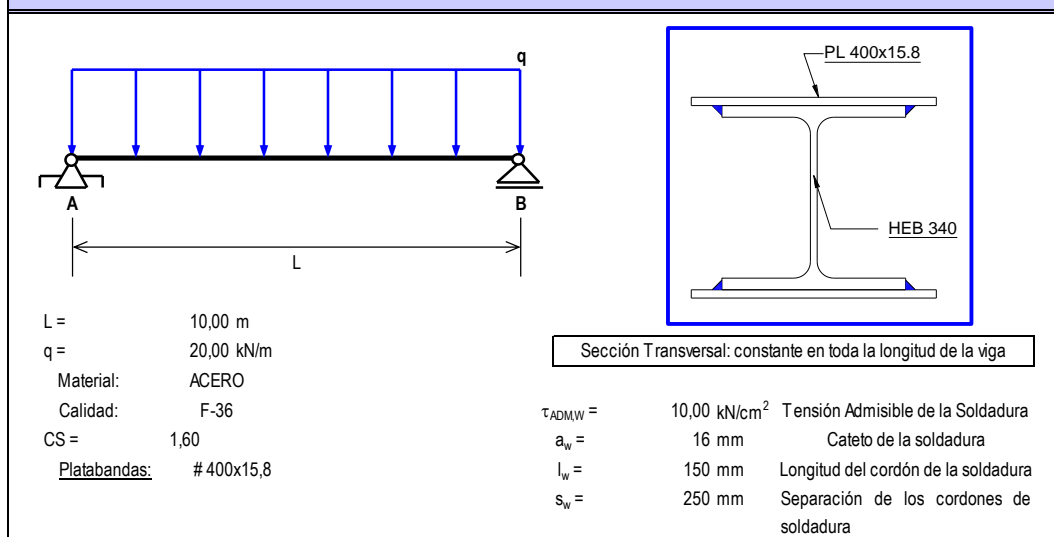
09.02 – Verificar la sección por tensiones normales, indicando el "ratio" de trabajo, es decir, la relación entre las tensiones de trabajo y la admisible;

09.03 – Verificar la unión soldada entre platabandas y perfil.

05.07.01-FV	TP N° 07: Solicitación por Flexión Variable en Régimen Elástico – FV	0	2017	2°	Todos	Pág.: 7
TP N°	CARPETA – SUB-CARPETA - DENOMINACION	REV.	AÑO	CUATRIM.	CURSOS	de: 12

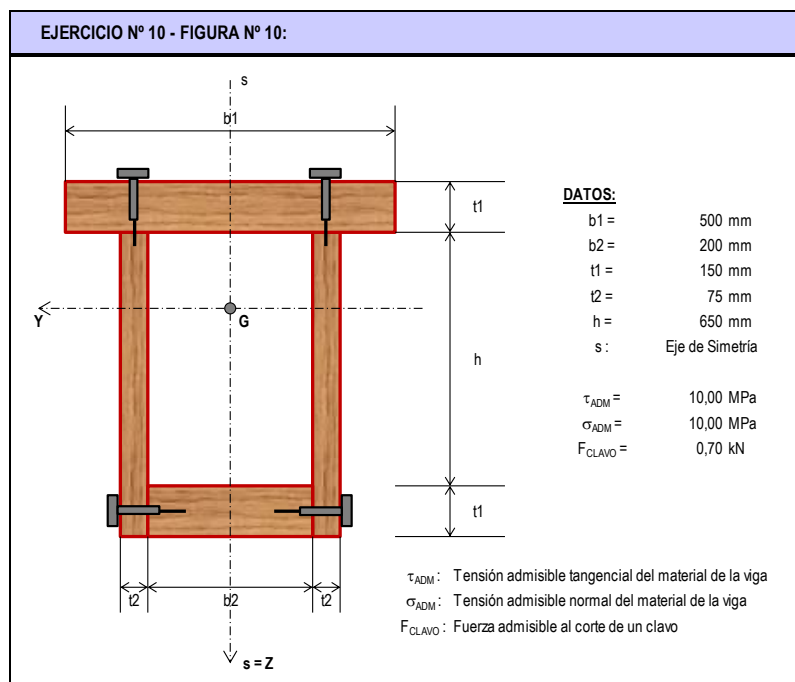


EJERCICIO N° 09 - FIGURA N° 09:



EJERCICIO N° 10: Para la sección transversal de la Figura N° 10, donde se proporcionan las características geométricas de la misma, así como las mecánicas de los materiales, se pide:

- 10.01 – Determinar el momento flector admisible $M_Y > 0$ de la sección;
- 10.02 – Determinar el corte admisible $Q_Z > 0$ de la sección;
- 10.03 – Determinar la separación máxima de los clavos superiores e inferiores;
- 10.04 – Trazar los diagramas de tensiones tangenciales para la sección transversal y para el esfuerzo de corte Q_Y .



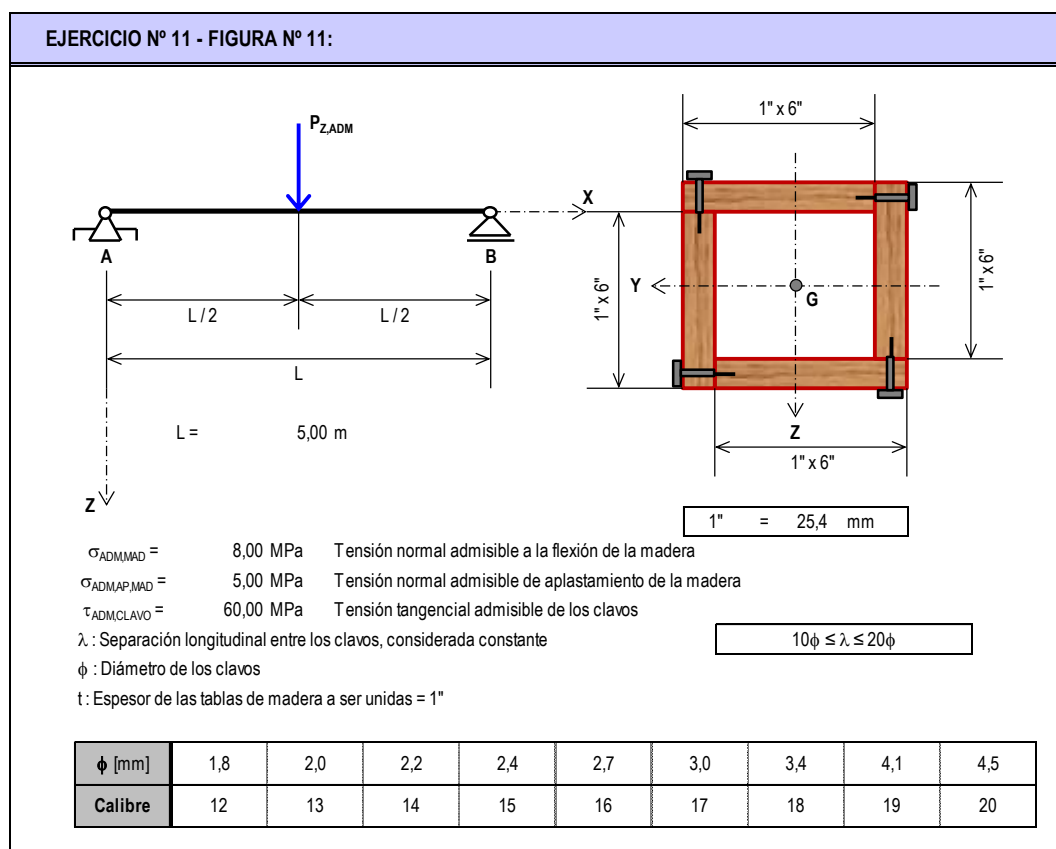
05.07.01-FV	TP N° 07: Solicitación por Flexión Variable en Régimen Elástico – FV	0	2017	2°	Todos	Pág.: 8
TP N°	CARPETA – SUB-CARPETA - DENOMINACION	REV.	AÑO	CUATRIM.	CURSOS	de: 12



ESTABILIDAD II "A" – 64.02 (EIIA-64.02) y ESTABILIDAD II – 84.03 (EII-84.03)

EJERCICIO N° 11: Para la fabricación de la viga de madera de la Figura N° 11, del tipo "cajón" se utilizan 4 tablas de 1" x 6", todas ellas de calidad "pino insigne". Se solicita determinar:

- 11.01 – La carga "P_{ZADM}" para las condiciones de sustentación y carga indicadas, de manera de cumplir con los requisitos de resistencia indicados;
- 11.02 – Para la carga calculada en "11.01", determinar la cantidad, distribución y diámetros de los clavos;
- 11.03 – Trazar los diagramas de tensiones normales "σ" y "τ" en la o las secciones de estudio y que sean las determinantes para los cálculos;
- 11.04 – Verificar el aplastamiento de la madera provocado por los clavos.



EJERCICIO N° 12: Para el Ejercicio N° 09 del Trabajo Práctico N° 05 (Solicitud por Flexión en Régimen Elástico - SF), se pide:

12.01 - Verificar las tensiones de corte para el acero y la madera para los siguientes datos:

$\tau_{ADM,MADERA} = 0,50 \text{ MPa}$	$\tau_{ADM,ACERO} = 60,00 \text{ MPa}$
--	--

12.02 - Con los datos de los clavos del Ejercicio N° 11 resolver un problema similar para unir acero y madera, previa perforación del acero (con orificio algo mayor) para facilitar la entrada de los clavos. Se deberán colocar 2 clavos por cada unión como mínimo y 5 como máximo.

05.07.01-FV	TP N° 07: Solicitud por Flexión Variable en Régimen Elástico - FV	0	2017	2°	Todos	Pág.: 9
TP N°	CARPETA - SUB-CARPETA - DENOMINACION	REV.	AÑO	CUATRIM.	CURSOS	de: 12



UNIVERSIDAD DE BUENOS AIRES
FACULTAD DE INGENIERIA
DEPARTAMENTO DE ESTABILIDAD



ESTABILIDAD II "A" – 64.02 (EIIA-64.02) y ESTABILIDAD II – 84.03 (EII-84.03)

EJERCICIO N° 13: Para las secciones transversales indicadas en la Figura N° 13, asumiendo que se conocen todas las dimensiones (largos, anchos y espesores) geométricas de las mismas; se requiere determinar conceptualmente la ubicación del "Centro de Corte", justificando adecuadamente la respuesta.

EJERCICIO N° 13 - FIGURA N° 13:

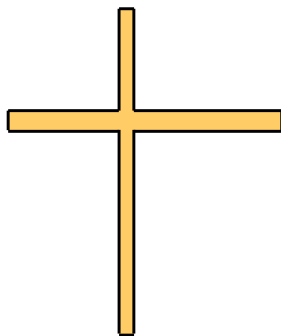


FIGURA N° 13.01

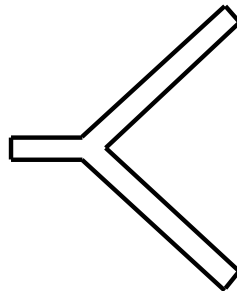


FIGURA N° 13.02

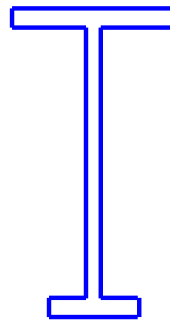


FIGURA N° 13.03




FIGURA N° 13.04

EJERCICIO N° 14: Para la correa intermedia de la Figura N° 14, previa determinación de su centro de corte, se pide:

14.01 - Determinar la carga máxima de nieve q (kN/m²) que es capaz de soportar la misma, cumpliendo las siguientes condiciones de resistencia (para el tramo isostático de 4.50 m extremo, tramo más voladizo);

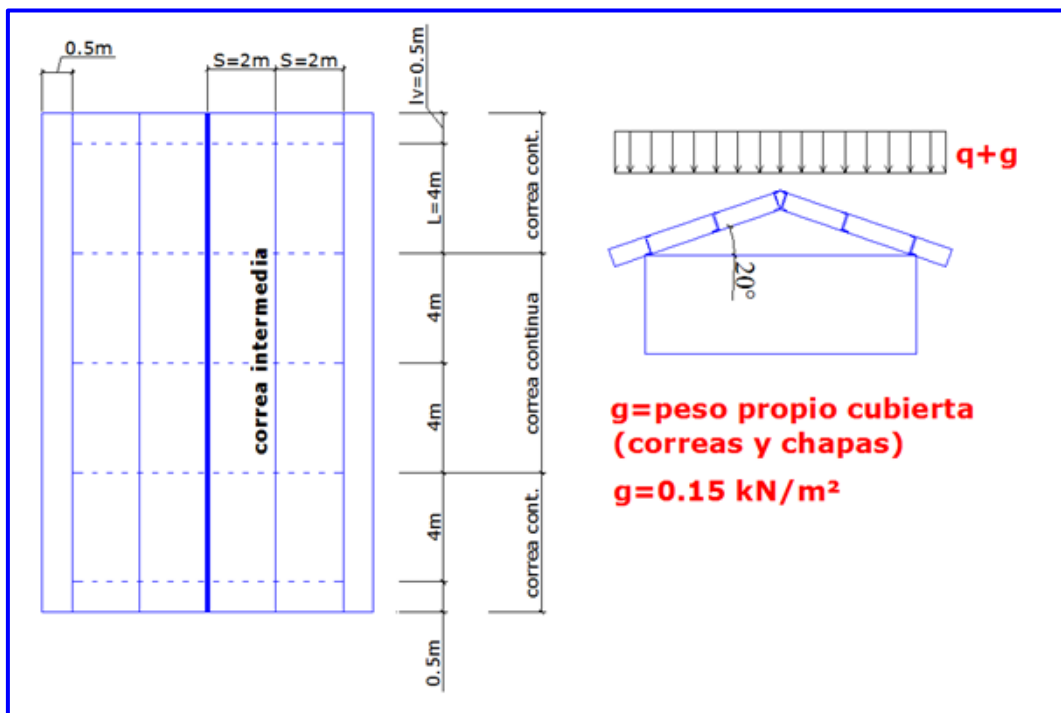
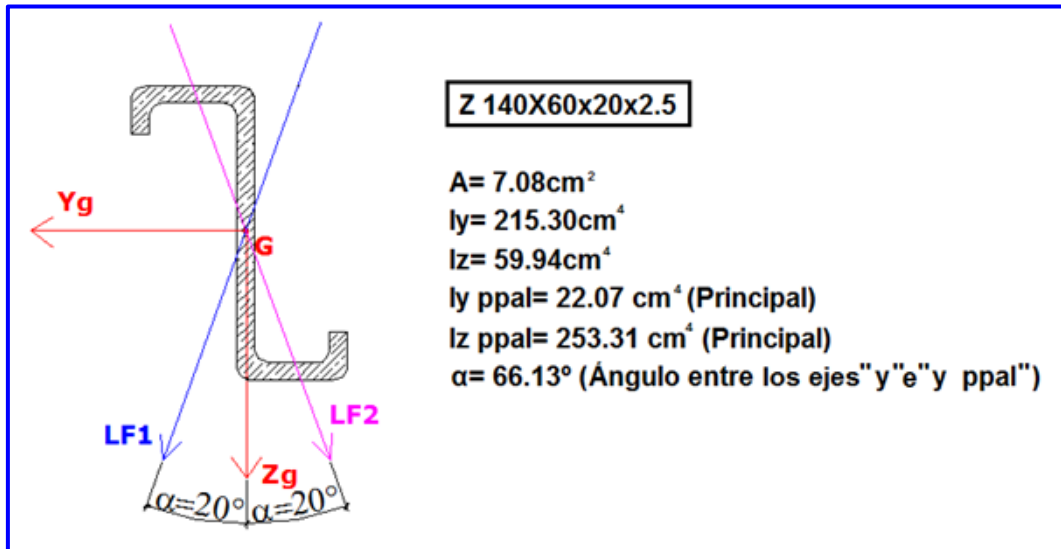
14.02 - Posicionar el eje "Z" de la manera más conveniente antes de calcular (Elegir entre LF1 y LF2 justificando la adopción de manera conceptual);

14.03 - Trazar los diagramas de tensiones normales y tangenciales completos, σ y τ , que resulten; así como el flujo de tensiones, para la o las secciones respectivamente analizadas.

$\sigma_{FL} = 240,00\text{MPa}$	$CS = 1,60$	$\tau_{ADM} = \sigma_{ADM} / \sqrt{3}$	$t = 2,5\text{mm}$
----------------------------------	-------------	--	--------------------

NOTA: Se considera que la correa no sufre abollamiento de alas ni de alma. Se cumplen las tres linealidades.

05.07.01-FV	TP N° 07: Solicitación por Flexión Variable en Régimen Elástico – FV	0	2017	2°	Todos	Pág.: 10
TP N°	CARPETA – SUB-CARPETA - DENOMINACION	REV.	AÑO	CUATRIM.	CURSOS	de: 12



05.07.01-FV	TP N° 07: Solicitación por Flexión Variable en Régimen Elástico – FV	0	2017	2°	Todos	Pág.: 11
TP N°	CARPETA – SUB-CARPETA - DENOMINACION	REV.	AÑO	CUATRIM.	CURSOS	de: 12



**UNIVERSIDAD DE BUENOS AIRES
FACULTAD DE INGENIERIA
DEPARTAMENTO DE ESTABILIDAD**



ESTABILIDAD II "A" – 64.02 (EIIA-64.02) y ESTABILIDAD II – 84.03 (EII-84.03)

NOTAS PRELIMINARES:

I) - Las letras **ABCDE** indican el N° de padrón o legajo de un integrante del GRUPO (si algún número es "cero", adoptar diez - 10 -);

II) – En todos los esquemas y dibujos que se realicen, deberán indicarse los valores característicos;

EJERCICIOS "NO" OBLIGATORIOS – COMPLEMENTARIOS Y OPTATIVOS:

Los siguientes ejercicios para este **TP N° 07 – FV** deberán ser considerados como "**NO**" obligatorios de realizar para la presentación formal del trabajo. En consecuencia, los mismos tienen un carácter de realización de tipo "**optativo**" y "**complementario**". En este sentido, los mismos no serán exigibles para la aprobación de este TP. Igualmente, se recomienda desarrollarlos para poder contar con mayor práctica en la resolución de problemas de este tema. La Cátedra ha decidido incluirlos con este sentido e idea.

Los ejercicios "**optativos**" son los siguientes:

- N° 03 (Todos menos el angular, el circular y el tubo rectangular abierto)
- N° 05
- N° 06
- N° 09
- N° 10
- N° 14

05.07.01-FV	TP N° 07: Solicitación por Flexión Variable en Régimen Elástico – FV	0	2017	2°	Todos	Pág.: 12
TP N°	CARPETA – SUB-CARPETA - DENOMINACION	REV.	AÑO	CUATRIM.	CURSOS	de: 12